

i INFORMASJON OM PRØVE I MEDIKAMENTREGNING

EKSAMENS DATO: 2.mars 2021

EKSAMENSTID: 09.00 - 10.15

Faglærer: Hilde Marie Andreassen; (hilde.m.andreassen@hiiof.no)
Tilgjengelig mellom kl. 09.00 - 10.00

Hjelpemidler:

NB! All utregning skal vises.

Karakterregel: Godkjent/Ikke godkjent

Sensorordning: To interne sensorer












Sensur: 12.mars 2021
Resultat vil bli tilgjengelig på studentweb

LYKKE TIL!

- 1 En pasient med Parkinson sykdom blir behandlet med Sifrol tabletter. Pasienten får ½ tbl Sifrol 3 ganger per døgn. Sifrol tabletter finnes i styrken 0,7 mg/tbl.

Hvor mange mg virkestoff får pasienten per døgn?

Skriv ditt svar her

Format - | **B** *I* U x_2 x^2 | I_x |     |   |   |  | Σ | ABC  | 











Words: 0

Maks poeng: 0

2 1 ml Narcanti konsentrat med styrke 0,4 mg/ml blandes med 9 ml NaCl til en fortynning.

Hva blir styrken på fortynningen regnet i mg/ml?

Skriv ditt svar her

Format | **B** | *I* | U | x_2 | x^2 | I_x |  |  |  |  |  |  |  |  |  | Σ | ABC | 

Words: 0

Maks poeng: 0












3 Det er forordnet Diclocil infusjon til en pasient. Infusjonssubstans Diclocil 0,5 g blandes med 5 ml sterilt vann til en stamløsning.

a. Hva blir styrken på stamløsningen regnet i mg/ml?

Stamløsningen på 5 ml blandes med NaCl til en fortykning slik at totalvolumet er 100ml.

b. Hva blir styrken på fortykningen?

Skriv ditt svar her

Format - | **B** | *I* | U | x_2 | x^2 | I_x |  |  |  |  |  |  |  |  |  |  | ABC | 










Words: 0

Maks poeng: 0

- 4 100 ml legemiddel gis ved hjelp av infusjonspumpe i løpet av 20 min.

Hva blir infusjonshastigheten regnet i ml/t?

Skriv ditt svar her

Format | **B** | *I* | U | x_2 | x^2 | I_x |  |  |  |  |  |  |  |  | Σ | ABC | 

Words: 0

Maks poeng: 0













5 En infusjon på 250 ml skal gå inn på 2,5 timer. 1 ml = 20 dråper.

a. Hva blir infusjonshastigheten regnet i dr/min? (Rund av til hele dråper)

Infusjonen starter kl 08.00 og må stoppes kl 09.45.

b. Hvor mange ml av infusjonen har pasienten fått? (Rund av til hele ml)

Skriv ditt svar her

Format | **B** | *I* | U | x_2 | x^2 | I_x |  |  |  |  |  |  |  |  |  |  |  | 











Words: 0

Maks poeng: 0

- 6 Du ønsker å slutte å røyke. Du bruker Nicotinell plaster med styrken 14mg/24timer. Etter 5 timer river du plasteret av ved et uhell.

Hvor mange mg virkestoff har du fått i løpet av de 5 timene? (angi svaret i 2 desimaler)

Skriv ditt svar her

Format | **B** | *I* | U | x_2 | x^2 | I_x |  |  |  |  |  |  |  |  |  | Σ | ABC | 











Words: 0

Maks poeng: 0

- 7 En pasient dryppes med Pilokarpin øyedråper. Pasienten får 1 dråpe i hvert øye tre ganger daglig. Pilokarpin øyedråper har styrken 20 mg/ml. 1ml = 20 dråper.

Hvor mange mg virkestoff har pasienten fått etter å ha blitt dryppet i øynene i ett døgn?

Skriv ditt svar her

Format | **B** | *I* | U | x_2 | x^2 | I_x |  |  |  |  |  |  |  |  |  | Σ | ABC | 











Words: 0

Maks poeng: 0

8 Spersadex øydråper har styrken 0,1%.

Hvor mange mg virkestoff er det i en flaske på 5ml?

Skriv ditt svar her

Format | **B** | *I* | U | x_2 | x^2 | I_x |  |  |  |  |  |  |  |  |  | Σ | ABC | 













Words: 0

Maks poeng: 0

9 Svarene i denne oppgaven skal ikke avrundes.

- a. 475 ml tilsvarener Liter
- b. 3,45 g tilsvarener mg
- c. 550 μ g tilsvarener mg

Skriv ditt svar her

Format | **B** | *I* | U | x_2 | x^2 | I_x |  |  |  |  |  |  |  |  |  |  |  | 

Words: 0

Maks poeng: 0